

1. Задача 1

В долине какой реки расположен г. Пхеньян?

1	<input type="checkbox"/>	Ханган
2	<input type="checkbox"/>	Туманган
3	<input type="checkbox"/>	Тэдонган
4	<input type="checkbox"/>	Нактонган

2. Задача 2

С какого года Корея находилась под протекторатом Японии?

1	<input type="checkbox"/>	1910
2	<input type="checkbox"/>	1905
3	<input type="checkbox"/>	1907
4	<input type="checkbox"/>	1895

3. Задача 3

Какой из южнокорейских президентов вынужден был подать в отставку в результате студенческих волнений?

1	<input type="checkbox"/>	Ли Сынман
2	<input type="checkbox"/>	Пак Чонхи
3	<input type="checkbox"/>	Пак Кынхе
4	<input type="checkbox"/>	Ким Дэчжун

4. Задача 4

Итогом Корейской войны 1950-1953 гг. стало:

1	<input type="checkbox"/>	победа войск КНДР и КНР
2	<input type="checkbox"/>	победа войск ООН и РК
3	<input type="checkbox"/>	подписание соглашения о прекращении огня
4	<input type="checkbox"/>	заключение мирного договора между РК и КНДР

5. Задача 5


Когда была провозглашена КНДР?

1	<input type="checkbox"/>	1948.09
2	<input type="checkbox"/>	1948.08
3	<input type="checkbox"/>	1953.06
4	<input type="checkbox"/>	1950.06

6. Задача 6

Активный процесс обособления феодальных наследственных владений в Древнем Китае происходит:

1	<input type="checkbox"/>	после захвата государства Шан чжоусцами
2	<input type="checkbox"/>	в эпоху «Вёсен и осеней»
3	<input type="checkbox"/>	в эпоху «Борющихся царств»
4	<input type="checkbox"/>	после захвата государства Чу циньцами

7. Задача 7

Представленные на рисунке монеты-ножи получили распространение в:

1	<input type="checkbox"/>	в царстве Ци в V в. до н.э.
2	<input type="checkbox"/>	царстве Чу в III в. до н.э.
3	<input type="checkbox"/>	империи Цинь после 221 г. до н.э.
4	<input type="checkbox"/>	в царстве У в III в. н.э.

8. Задача 8

Т.н. «аристократический буддизм» - это форма буддизма, сложившаяся в:

1	<input type="checkbox"/>	IV в. н.э. на юге Китая
2	<input type="checkbox"/>	V в. н.э. на севере Китая
3	<input type="checkbox"/>	VII в. н.э. в империи Тан
4	<input type="checkbox"/>	XI в. н.э. в империи Сун

9. Задача 9

Какой вулкан расположен ближе всего к Токио?

1	<input type="checkbox"/>	Асама
2	<input type="checkbox"/>	Асо
3	<input type="checkbox"/>	Кудзю
4	<input type="checkbox"/>	Ётэй

10. Задача

Что в Японии принято называть «шоком Никсона»?

1	<input type="checkbox"/>	Болезнь со специфическими симптомами
2	<input type="checkbox"/>	Внезапный визит Никсона в КНР
3	<input type="checkbox"/>	Внезапный визит Никсона в Японию
4	<input type="checkbox"/>	Скандал, вызванный коррупцией

11. Задача 11

Кто из перечисленных премьер-министров Японии, будучи на этом посту, представлял Демократическую партию Японии

1	<input type="checkbox"/>	Хатояма Юкио
2	<input type="checkbox"/>	Абэ Синдзо
3	<input type="checkbox"/>	Асо Таро
4	<input type="checkbox"/>	Фукуда Ясуо

12. Задача 12

Кто из перечисленных деятелей никогда не был премьер-министром Японии?

1	<input type="checkbox"/>	Ито Хиробуми
2	<input type="checkbox"/>	Окума Сигэнобу
3	<input type="checkbox"/>	Итагаки Тайсукэ
4	<input type="checkbox"/>	Куроода Киётака

13. Задача 13

Кто такой мимар Синан?

1	<input type="checkbox"/>	Зодчий, воздвигший Голубую мечеть
2	<input type="checkbox"/>	Зодчий, воздвигший Айя-Софию
3	<input type="checkbox"/>	Зодчий, воздвигший Сулейманийе
4	<input type="checkbox"/>	Зодчий, воздвигший мост через Босфор

14. Задача 14

Когда произошли четыре ключевых войны между Израилем и арабскими государствами?

1	<input type="checkbox"/>	1948, 1952, 1967, 1969
2	<input type="checkbox"/>	1956, 1967, 1973, 1979
3	<input type="checkbox"/>	1948, 1956, 1967, 1973
4	<input type="checkbox"/>	1948, 1952, 1969, 1979

15. Задача 15

Кто считается основателем современного национального арабского театра ?

1	<input type="checkbox"/>	Абу Халил ал-Каббани
2	<input type="checkbox"/>	Марун ан-Наккаш
3	<input type="checkbox"/>	Йакуба ас-Саннуа

16. Задача 16

В какой книге была окончательно зафиксирована японская идеология эпохи милитаризма?

1	<input type="checkbox"/>	Сущность кокутай
2	<input type="checkbox"/>	Драгоценная шкатулка для гребней
3	<input type="checkbox"/>	Похвала тени
4	<input type="checkbox"/>	Сборник о бусидо

17. Задача 17

Выберите из нижеперечисленных два преобразования, которые были проведены в ходе так называемой революции Юсин в Южной Корее:

1	<input type="checkbox"/>	Снятие запрета на создание профсоюзов и политических партий, включая коммунистические и социалистические
2	<input type="checkbox"/>	Проведена конституционная реформа
3	<input type="checkbox"/>	Ликвидированы крупные финансовые монополии чэболь
4	<input type="checkbox"/>	Усилены меры контроля за деятельностью политических партий и средств массовой информации
5	<input type="checkbox"/>	Возобновлен диалог между Севером и Югом Кореи

18. Задача 18*

Кто из президентов Южной Кореи находился с государственным визитом в КНДР? Выберите два верных ответа.

1	<input type="checkbox"/>	Пак Чонхи
2	<input type="checkbox"/>	Ким Ёнсам
3	<input type="checkbox"/>	Ким Дэчжун
4	<input type="checkbox"/>	Но Мухён
5	<input type="checkbox"/>	Ли Мёнбак

19. Задача 19

Какие три события случились в 1979 г.?

1	<input type="checkbox"/>	Вторжение советских войск в Афганистан
2	<input type="checkbox"/>	Начало Ирано-иракской войны
3	<input type="checkbox"/>	Приход к власти в Сирии Хафеза Асада
4	<input type="checkbox"/>	Очередная война арабских стран с Израилем
5	<input type="checkbox"/>	Убийство Анвара Садата исламистами
6	<input type="checkbox"/>	Провозглашение Ирана исламской республикой

20. Задача 20

В каких арабских странах в результате «Арабской весны» сменился состав правящих элит?

1	<input type="checkbox"/>	Египет
2	<input type="checkbox"/>	Сирия
3	<input type="checkbox"/>	Ливия
4	<input type="checkbox"/>	Тунис
5	<input type="checkbox"/>	Алжир
6	<input type="checkbox"/>	Йемен

21. Задача 21

В древности «Изречения» Конфуция («Лунь юй») существовали в нескольких версиях. Из каких древнекитайских царств они к нам дошли?

1	<input type="checkbox"/>	Цинь
2	<input type="checkbox"/>	Ци
3	<input type="checkbox"/>	Чу
4	<input type="checkbox"/>	Лу
5	<input type="checkbox"/>	Сун
6	<input type="checkbox"/>	Вэй

22. Задача 22

Кто из перечисленных далай-лам бывал во внутреннем Китае?

1	<input type="checkbox"/>	далай-лама I
2	<input type="checkbox"/>	далай-лама III
3	<input type="checkbox"/>	далай-лама V
4	<input type="checkbox"/>	далай-лама VI
5	<input type="checkbox"/>	далай-лама XII
6	<input type="checkbox"/>	далай-лама XIII

23. Задача 23

Кто из китайских государственных и политических деятелей непосредственно не участвовал в Сианьском инциденте 12 декабря 1936 г.?

1	<input type="checkbox"/>	Мао Цзэдун
2	<input type="checkbox"/>	Чан Кайши
3	<input type="checkbox"/>	Чжоу Эньлай
4	<input type="checkbox"/>	Чжан Сюэлян
5	<input type="checkbox"/>	Ян Хучэн
6	<input type="checkbox"/>	Ван Цзинвэй

24. Задача 24

Что было позаимствовано европейцами у Мусульманской Испании? Отметьте все правильные варианты.

1	<input type="checkbox"/>	Арабские цифры
2	<input type="checkbox"/>	Шариат
3	<input type="checkbox"/>	Канализационная система и водяные мельницы
4	<input type="checkbox"/>	Компас
5	<input type="checkbox"/>	Поэтико-песенная традиция

25. Задача 25

Расположите события из политической истории Южной Кореи в хронологической последовательности.

Корейская война	<input type="text"/>
Восстание в Кванджу	<input type="text"/>
Апрельская революция	<input type="text"/>
Первый саммит на высшем уровне лидеров РК и КНДР	<input type="text"/>

26. Задача 26

Расставьте пять стихий в порядке преодоления, согласно Цзоу Яню.

1	земля
2	металл
3	огонь
4	дерево
5	вода

27. Задача 27*

Перед вами изображения представителей могущественных кланов Японии. Расположите их в хронологическом порядке в соответствии с периодом доминирования их кланов

	<input data-bbox="646 347 778 392" type="text"/>
	<input data-bbox="646 772 778 817" type="text"/>
	<input data-bbox="646 1232 778 1276" type="text"/>
	<input data-bbox="646 1668 778 1713" type="text"/>



28. Задача 28*



Расставьте в хронологическом порядке следующие события:

А) Договор Сайкса—Пико	<input type="text"/>
Б) Провозглашение Египетского королевства	<input type="text"/>
В) Начало правления Мухаммада Али	<input type="text"/>
Г) Открытие Суэцкого канала	<input type="text"/>
Д) Расформирование корпуса янычар	<input type="text"/>
Е) Поход Наполеона в Египет и Сирию	<input type="text"/>

29. Задача 29*

Соотнесите изображения памятников архитектуры со странами Востока, на территории которых они находятся.

	<input type="text"/>
	<input type="text"/>

	<input data-bbox="901 347 1061 392" type="text"/>
	<input data-bbox="901 862 1061 907" type="text"/>

Возможные ответы

- | | |
|---|--------|
| 1 | КНДР |
| 2 | Турция |
| 3 | ОАЭ |
| 4 | РК |
| 5 | Китай |

30. Задача 30

Соотнесите события из политической истории Кореи с именами деятелей, имевших к ним непосредственное отношение.

- 1 — Теоретическое обоснование идей сонгун
- 2 — Создание Трудовой партии Кореи
- 3 — Создание Первой Республики
- 4 — Политика солнечного тепла
- 5 — Закрытие промышленного комплекса Кэсон

Ким Ирсен	<input type="text"/>
Ким Ченир	<input type="text"/>
Ким Дэчжун	<input type="text"/>
Ли Сынман	<input type="text"/>

31. Задача 31

Сделайте сопоставление имен правителей и событий, связанных с ними.

1. Установление власти династии Каджаров над Ираном	<input type="text"/>
2. Пик могущества империи Великих Моголов	<input type="text"/>
3. Победа над мамлюками и бурный рост Османской империи	<input type="text"/>
4. Поощрение буддизма в Индии и апогей государства Маурьев	<input type="text"/>
5. Введение реакционных мер против реформ, эпоха «Зулюм»	<input type="text"/>
6. Пик могущества Сефевидского Ирана и застройка Исфагана	<input type="text"/>

Возможные ответы

1	Ашока
2	Акбар Великий
3	Аббас Великий
4	Абдул-Хамид II
5	Мухаммад Ага-шах
6	Селим I Грозный

32. Задача 32

Соотнесите исторические эпохи или события с датами:

А) Бронзовый коллапс	<input type="text"/>
Б) Существование Сасанидской империи	<input type="text"/>
В) Ниспослание Корана пророку Мухаммаду	<input type="text"/>
Г) Неолитическая революция	<input type="text"/>
Д) Завоевания Александра Македонского	<input type="text"/>

Возможные ответы

1	Около 10 тыс. л. до н.э.
2	XIII-XI вв. до н.э.
3	330-е гг. до н.э.
4	III-VII вв. н.э.
5	610-632 гг. н.э.

33. Задача 33

О какой государственной идеологии идет речь в нижеприведенном отрывке?

«...Самостоятельная позиция исходит из подхода к тому, что общественно-историческое движение является движением за самостоятельность народных масс, а общественная история человечества - историей борьбы народных масс за свою самостоятельность. Эта позиция нацелена на защиту самостоятельности.

Давайте сначала посмотрим, что такое самостоятельная позиция.

Самостоятельная позиция - это, одним словом, позиция народных масс в отстаивании места хозяина революции и строительства. Другими словами, позиция народных масс в отстаивании и осуществлении прав хозяина революции и строительства и выполнении ответственности хозяина.


Прежде всего самостоятельная позиция выражается в осуществлении народными массами своего права хозяев революции и строительства.

Это означает, что все вопросы революции и строительства должны решаться, исходя из собственных суждений и решений, в соответствии с интересами народных масс.

Самостоятельная позиция требует в любом сложном обстоятельстве действовать по собственным суждениям и решениям, решать все вопросы в соответствии со своими требованиями и интересами и выступать решительно против духа опоры на чужую силу и действий по конъюнктуре без собственных убеждений. Действует вразрез самостоятельной позиции тот, кто попал в зависимость от других и не может решать свои проблемы по собственному убеждению, или тот, кто, следуя чужой воле, решает проблемы против собственных интересов...»

34. Задача 34*

С историей какого военного конфликта связано использование данного типа кораблей в Корее?



35. Задача 35*

1943 год, Каир. На этой фотографии есть известный британский политический деятель. Назовите его.



36. Задача 36*

Что общего между тремя пунктами, отмеченными на карте?

37. Задача 37*

Перед вами на фотографии эмир Фейсал с арабской делегацией. Укажите место, где была сделана эта фотография.



38. Задача 38

Под каким девизом правил последний император Китая?

39. Задача 39

Как называлась мелкая китайская медная монета имперского периода?

40. Задача 40

Перед вами изображение сада камней известного храма в Японии. Как звали основателя направления дзэн-буддизма, к которому относится этот храм?

