

## 1. Задача 1

В долине какой реки расположен г. Пхеньян?

1	<input type="radio"/>	Ханган
2	<input type="radio"/>	Туманган
3	<input checked="" type="radio"/>	Тэдонган
4	<input type="radio"/>	Нактонган

## 2. Задача 2

С какого года Корея находилась под протекторатом Японии?

1	<input type="radio"/>	1910
2	<input checked="" type="radio"/>	1905
3	<input type="radio"/>	1907
4	<input type="radio"/>	1895

## 3. Задача 3

Какой из южнокорейских президентов вынужден был подать в отставку в результате студенческих волнений?

1	<input checked="" type="radio"/>	Ли Сынман
2	<input type="radio"/>	Пак Чонхи
3	<input type="radio"/>	Пак Кынхе
4	<input type="radio"/>	Ким Дэчжун

## 4. Задача 4

Итогом Корейской войны 1950-1953 гг. стало:

1	<input type="radio"/>	победа войск КНДР и КНР
2	<input type="radio"/>	победа войск ООН и РК
3	<input checked="" type="radio"/>	подписание соглашения о прекращении огня
4	<input type="radio"/>	заключение мирного договора между РК и КНДР

**5. Задача 5**


Когда была провозглашена КНДР?

1	<input checked="" type="radio"/>	1948.09
2	<input type="radio"/>	1948.08
3	<input type="radio"/>	1953.06
4	<input type="radio"/>	1950.06

**6. Задача 6**

Активный процесс обособления феодальных наследственных владений в Древнем Китае происходит:

1	<input type="radio"/>	после захвата государства Шан чжоусцами
2	<input checked="" type="radio"/>	в эпоху «Вёсен и осеней»
3	<input type="radio"/>	в эпоху «Борющихся царств»
4	<input type="radio"/>	после захвата государства Чу циньцами

**7. Задача 7**

Представленные на рисунке монеты-ножи получили распространение в:

1	<input checked="" type="radio"/>	в царстве Ци в V в. до н.э.
2	<input type="radio"/>	царстве Чу в III в. до н.э.
3	<input type="radio"/>	империи Цинь после 221 г. до н.э.
4	<input type="radio"/>	в царстве У в III в. н.э.

## 8. Задача 8

Т.н. «аристократический буддизм» - это форма буддизма, сложившаяся в:

1	<input checked="" type="radio"/>	IV в. н.э. на юге Китая
2	<input type="radio"/>	V в. н.э. на севере Китая
3	<input type="radio"/>	VII в. н.э. в империи Тан
4	<input type="radio"/>	XI в. н.э. в империи Сун

## 9. Задача 9

Какой вулкан расположен ближе всего к Токио?

1	<input checked="" type="radio"/>	Асама
2	<input type="radio"/>	Асо
3	<input type="radio"/>	Кудзю
4	<input type="radio"/>	Ётэй

## 10. Задача

Что в Японии принято называть «шоком Никсона»?

1	<input type="radio"/>	Болезнь со специфическими симптомами
2	<input checked="" type="radio"/>	Внезапный визит Никсона в КНР
3	<input type="radio"/>	Внезапный визит Никсона в Японию
4	<input type="radio"/>	Скандал, вызванный коррупцией

## 11. Задача 11

Кто из перечисленных премьер-министров Японии, будучи на этом посту, представлял Демократическую партию Японии

1	<input checked="" type="radio"/>	Хатояма Юкио
2	<input type="radio"/>	Абэ Синдзо
3	<input type="radio"/>	Асо Таро
4	<input type="radio"/>	Фукуда Ясуо

**12. Задача 12**

Кто из перечисленных деятелей никогда не был премьер-министром Японии?

1	<input type="radio"/>	Ито Хиробуми
2	<input type="radio"/>	Окума Сигэнобу
3	<input checked="" type="radio"/>	Итагаки Тайсукэ
4	<input type="radio"/>	Куроода Киётака

**13. Задача 13**

Кто такой мимар Синан?

1	<input type="radio"/>	Зодчий, воздвигший Голубую мечеть
2	<input type="radio"/>	Зодчий, воздвигший Айя-Софию
3	<input checked="" type="radio"/>	Зодчий, воздвигший Сулейманийе
4	<input type="radio"/>	Зодчий, воздвигший мост через Босфор

**14. Задача 14**

Когда произошли четыре ключевых войны между Израилем и арабскими государствами?

1	<input type="radio"/>	1948, 1952, 1967, 1969
2	<input type="radio"/>	1956, 1967, 1973, 1979
3	<input checked="" type="radio"/>	1948, 1956, 1967, 1973
4	<input type="radio"/>	1948, 1952, 1969, 1979

**15. Задача 15**

Кто считается основателем современного национального арабского театра ?

1	<input type="radio"/>	Абу Халил ал-Каббани
2	<input checked="" type="radio"/>	Марун ан-Наккаш
3	<input type="radio"/>	Йакуба ас-Саннуа

**16. Задача 16**

В какой книге была окончательно зафиксирована японская идеология эпохи милитаризма?

1	<input checked="" type="radio"/>	Сущность кокутай
2	<input type="radio"/>	Драгоценная шкатулка для гребней
3	<input type="radio"/>	Похвала тени
4	<input type="radio"/>	Сборник о бусидо

**17. Задача 17**

Выберите из нижеперечисленных два преобразования, которые были проведены в ходе так называемой революции Юсин в Южной Корее:

1	<input type="checkbox"/>	Снятие запрета на создание профсоюзов и политических партий, включая коммунистические и социалистические
2	<input checked="" type="checkbox"/>	Проведена конституционная реформа
3	<input type="checkbox"/>	Ликвидированы крупные финансовые монополии чэболь
4	<input checked="" type="checkbox"/>	Усилены меры контроля за деятельностью политических партий и средств массовой информации
5	<input type="checkbox"/>	Возобновлен диалог между Севером и Югом Кореи

**18. Задача 18\***

Кто из президентов Южной Кореи находился с государственным визитом в КНДР? Выберите два верных ответа.

1	<input type="checkbox"/>	Пак Чонхи
2	<input type="checkbox"/>	Ким Ёнсам
3	<input checked="" type="checkbox"/>	Ким Дэчжун
4	<input checked="" type="checkbox"/>	Но Мухён
5	<input type="checkbox"/>	Ли Мёнбак

## 19. Задача 19

Какие три события случились в 1979 г.?

1	<input checked="" type="checkbox"/>	Вторжение советских войск в Афганистан
2	<input checked="" type="checkbox"/>	Начало Ирано-иракской войны
3	<input type="checkbox"/>	Приход к власти в Сирии Хафеза Асада
4	<input type="checkbox"/>	Очередная война арабских стран с Израилем
5	<input type="checkbox"/>	Убийство Анвара Садата исламистами
6	<input checked="" type="checkbox"/>	Провозглашение Ирана исламской республикой

## 20. Задача 20

В каких арабских странах в результате «Арабской весны» сменился состав правящих элит?

1	<input checked="" type="checkbox"/>	Египет
2	<input type="checkbox"/>	Сирия
3	<input checked="" type="checkbox"/>	Ливия
4	<input checked="" type="checkbox"/>	Тунис
5	<input type="checkbox"/>	Алжир
6	<input checked="" type="checkbox"/>	Йемен

## 21. Задача 21

В древности «Изречения» Конфуция («Лунь юй») существовали в нескольких версиях. Из каких древнекитайских царств они к нам дошли?

1	<input type="checkbox"/>	Цинь
2	<input checked="" type="checkbox"/>	Ци
3	<input type="checkbox"/>	Чу
4	<input checked="" type="checkbox"/>	Лу
5	<input type="checkbox"/>	Сун
6	<input type="checkbox"/>	Вэй

**22. Задача 22**

Кто из перечисленных далай-лам бывал во внутреннем Китае?

1	<input type="checkbox"/>	далай-лама I
2	<input type="checkbox"/>	далай-лама III
3	<input checked="" type="checkbox"/>	далай-лама V
4	<input type="checkbox"/>	далай-лама VI
5	<input type="checkbox"/>	далай-лама XII
6	<input checked="" type="checkbox"/>	далай-лама XIII

**23. Задача 23**

Кто из китайских государственных и политических деятелей непосредственно не участвовал в Сианьском инциденте 12 декабря 1936 г.?

1	<input checked="" type="checkbox"/>	Мао Цзэдун
2	<input type="checkbox"/>	Чан Кайши
3	<input type="checkbox"/>	Чжоу Эньлай
4	<input type="checkbox"/>	Чжан Сюэлян
5	<input type="checkbox"/>	Ян Хучэн
6	<input checked="" type="checkbox"/>	Ван Цзинвэй

**24. Задача 24**

Что было позаимствовано европейцами у Мусульманской Испании? Отметьте все правильные варианты.

1	<input checked="" type="checkbox"/>	Арабские цифры
2	<input type="checkbox"/>	Шариат
3	<input checked="" type="checkbox"/>	Канализационная система и водяные мельницы
4	<input type="checkbox"/>	Компас
5	<input checked="" type="checkbox"/>	Поэтико-песенная традиция

**25. Задача 25**

Расположите события из политической истории Южной Кореи в хронологической последовательности.

Корейская война	<input type="text"/>
Восстание в Кванджу	<input type="text"/>
Апрельская революция	<input type="text"/>
Первый саммит на высшем уровне лидеров РК и КНДР	<input type="text"/>

**26. Задача 26**

Расставьте пять стихий в порядке преодоления, согласно Цзоу Яню.

1	земля
2	металл
3	огонь
4	дерево
5	вода

**27. Задача 27\***

Перед вами изображения представителей могущественных кланов Японии. Расположите их в хронологическом порядке в соответствии с периодом доминирования их кланов



	<input data-bbox="646 344 780 389" type="text"/>
	<input data-bbox="646 768 780 813" type="text"/>
	<input data-bbox="646 1232 780 1276" type="text"/>
	<input data-bbox="646 1668 780 1713" type="text"/>



**28. Задача 28\***



Расставьте в хронологическом порядке следующие события:

А) Договор Сайкса—Пико	<input type="text"/>
Б) Провозглашение Египетского королевства	<input type="text"/>
В) Начало правления Мухаммада Али	<input type="text"/>
Г) Открытие Суэцкого канала	<input type="text"/>
Д) Расформирование корпуса янычар	<input type="text"/>
Е) Поход Наполеона в Египет и Сирию	<input type="text"/>

**29. Задача 29\***

Соотнесите изображения памятников архитектуры со странами Востока, на территории которых они находятся.

	<input type="text"/>
	<input type="text"/>

	<input data-bbox="901 347 1061 392" type="text"/>
	<input data-bbox="901 862 1061 907" type="text"/>

Возможные ответы

- |   |        |
|---|--------|
| 1 | КНДР   |
| 2 | Турция |
| 3 | ОАЭ    |
| 4 | РК     |
| 5 | Китай  |

**30. Задача 30**

Соотнесите события из политической истории Кореи с именами деятелей, имевших к ним непосредственное отношение.

- 1 — Теоретическое обоснование идей сонгун
- 2 — Создание Трудовой партии Кореи
- 3 — Создание Первой Республики
- 4 — Политика солнечного тепла
- 5 — Закрытие промышленного комплекса Кэсон

Ким Ирсен	<input type="text"/>
Ким Ченир	<input type="text"/>
Ким Дэчжун	<input type="text"/>
Ли Сынман	<input type="text"/>

**31. Задача 31**

Сделайте сопоставление имен правителей и событий, связанных с ними.

1. Установление власти династии Каджаров над Ираном	<input type="text"/>
2. Пик могущества империи Великих Моголов	<input type="text"/>
3. Победа над мамлюками и бурный рост Османской империи	<input type="text"/>
4. Поощрение буддизма в Индии и апогей государства Маурьев	<input type="text"/>
5. Введение реакционных мер против реформ, эпоха «Зулюм»	<input type="text"/>
6. Пик могущества Сефевидского Ирана и застройка Исфагана	<input type="text"/>

Возможные ответы

1	Ашока
2	Акбар Великий
3	Аббас Великий
4	Абдул-Хамид II
5	Мухаммад Ага-шах
6	Селим I Грозный

**32. Задача 32**

Соотнесите исторические эпохи или события с датами:

А) Бронзовый коллапс	<input type="text"/>
Б) Существование Сасанидской империи	<input type="text"/>
В) Ниспослание Корана пророку Мухаммаду	<input type="text"/>
Г) Неолитическая революция	<input type="text"/>
Д) Завоевания Александра Македонского	<input type="text"/>

Возможные ответы

1	Около 10 тыс. л. до н.э.
2	XIII-XI вв. до н.э.
3	330-е гг. до н.э.
4	III-VII вв. н.э.
5	610-632 гг. н.э.

**33. Задача 33**

О какой государственной идеологии идет речь в нижеприведенном отрывке?

«...Самостоятельная позиция исходит из подхода к тому, что общественно-историческое движение является движением за самостоятельность народных масс, а общественная история человечества - историей борьбы народных масс за свою самостоятельность. Эта позиция нацелена на защиту самостоятельности.

Давайте сначала посмотрим, что такое самостоятельная позиция.

Самостоятельная позиция - это, одним словом, позиция народных масс в отстаивании места хозяина революции и строительства. Другими словами, позиция народных масс в отстаивании и осуществлении прав хозяина революции и строительства и выполнении ответственности хозяина.

Прежде всего самостоятельная позиция выражается в осуществлении народными массами своего права хозяев революции и строительства.


Это означает, что все вопросы революции и строительства должны решаться, исходя из собственных суждений и решений, в соответствии с интересами народных масс.

Самостоятельная позиция требует в любом сложном обстоятельстве действовать по собственным суждениям и решениям, решать все вопросы в соответствии со своими требованиями и интересами и выступать решительно против духа опоры на чужую силу и действий по конъюнктуре без собственных убеждений. Действует вразрез самостоятельной позиции тот, кто попал в зависимость от других и не может решать свои проблемы по собственному убеждению, или тот, кто, следуя чужой воле, решает проблемы против собственных интересов...»

**Ответ:** Чучхе

### 34. Задача 34\*

С историей какого военного конфликта связано использование данного типа кораблей в Корее?



**Ответ:** Имджинская война



### 35. Задача 35\*

1943 год, Каир. На этой фотографии есть известный британский политический деятель. Назовите его.



**Ответ:** Черчилль

**36. Задача 36\***

Что общего между тремя пунктами, отмеченными на карте?

**Ответ:** пещеры

**37. Задача 37\***

Перед вами на фотографии эмир Фейсал с арабской делегацией. Укажите место, где была сделана эта фотография.



**Ответ:** Париж



### 38. Задача 38

Под каким девизом правил последний император Китая?

**Ответ:** Хунсянь

### 39. Задача 39

Как называлась мелкая китайская медная монета имперского периода?

**Ответ:** вэнь

### 40. Задача 40

Перед вами изображение сада камней известного храма в Японии. Как звали основателя направления дзэн-буддизма, к которому относится этот храм?



**Ответ:** Эйсай