

## 1. Задача 1

Первая печатная газета в России называлась:

1	«Московский вестник»
2	«Русские ведомости»
3	«Ведомости»
4	«Известия»

## 2. Задача 2

В 1701 году в России было открыто учреждение:

1	Школа Пушкарского приказа
2	Академический университет
3	Первая в России биржа
4	Медицинское училище

## 3. Задача 3

В первой половине XVIII в. в России:

1	был подписан Манифест о вольности дворянства
2	дворянская служба была ограничена 25-ю годами
3	отменили откупы и монополии
4	открылся Дворянский банк

## 4. Задача 4

Указ о единонаследии в России был отменен:

1	Елизаветой Петровной
2	Екатериной I
3	Екатериной II
4	Анной Ивановной

## 5. Задача 5

В середине XVIII в. по инициативе П.И. Шувалова в России были увеличены:

1	проценты по вкладам
2	ввозные пошлины
3	акцизные сборы
4	цены на сахар и табак

### 6. Задача 6

К царствованию Екатерины II относится:

1	Манифест о вольности дворянства
2	Указ о престолонаследии
3	ликвидация гетманства на Украине
4	упразднение Тайной канцелярии

### 7. Задача 7

Кого из этих людей не было при дворе Екатерины II?

1	Н.И. Панин
2	И.А. Долгорукий
3	А.Г. Орлов
4	Г.А. Потемкин

### 8. Задача 8

Благодаря губернской реформе 1775 г. в России на уездном уровне появились:

1	нижние судебные расправы
2	верхние земские суды
3	верхние судебные расправы
4	гражданская и уголовная судебные палаты

### 9. Задача 9

К русско-турецкой войне 1787–1791 гг. относится:

1	битва при Гросс-Егерсдорфе
2	взятие Измаила
3	первый раздел Речи Посполитой

4

Кючук-Кайнарджийский мир

**10. Задача 10**

Кто из этих деятелей культуры не является архитектором?

1	В.К. Тредиаковский
2	В. И. Баженов
3	М.Ф. Казаков
4	И. Е. Старов

**11. Задача 11\***

Как события произошли ДО изображенной на картине сцене



1	Великое посольство
2	Введение летоисчисления от Рождества Христова
3	Азовские походы
4	Сражение под Нарвой

	Астраханское восстание
--	------------------------


## 12. Задача 12

Какие учреждения возникли НЕ при Петре I

1	Преображенский приказ
2	Приказ тайных дел
3	Тайная канцелярия
4	Тайная экспедиция
5	Верховный тайный совет

## 13. Задача 13

Как события произошли ПОСЛЕ изображенной на картине сцене?



1	Полтавская битва
2	Ништадский мир
3	Прутский поход
4	Учреждение Синода
5	Учреждение Сената

## 14. Задача 14

Какие правители являлись родными детьми и внуками Петра I?

1	Петр II
---	---------

2	Анна Иоанновна
3	Елизавета Петровна
4	Петр III
5	Екатерина II

**15. Задача 15\***


При каких государях жил изображенный на портрете писатель?




Елизавета Петровна
Петр III
Екатерина II
Павел I
Александр I


## 16. Задача 16\*

Расположите следующие памятники архитектуры в порядке их создания:











Возможные ответы

1	1
2	2
3	3
4	4

Система оценивания

## 17. Задача 17

Расположите следующие законодательные акты в верной хронологической последовательности:

1	«Великий государь указал... в своем, великого государя, великом Российском государстве для всенародной пользы учинить 8 губерний и к ним росписать города».	<input type="text"/>
---	---	----------------------

2	«верноподданных наших всемилостивейше жалуем и освобождаем от платежа внутри государства таможенных и мелочных зборов».	<input type="text"/>
3	«в каждом городе благочиние поручается единому месту, которое в каждом городе учреждается под названием управа благочиния или полицейская».	<input type="text"/>
4	«Определили быть для отлучек наших Правительствующий Сепат для управления».	<input type="text"/>

Возможные ответы

1	1
2	2
3	3
4	4

Система оценивания

## 18. Задача 18\*

Расположите следующие произведения искусства в порядке их создания:









Возможные ответы

**19. Задача 19**

Расположите учебные заведения в порядке их возникновения:

1	Школа математических и навигацких наук	<input type="text"/>
2	Московский университет	<input type="text"/>
3	Смольный институт благородных девиц	<input type="text"/>
4	Сухопутный шляхетский кадетский корпус	<input type="text"/>

Возможные ответы

1	1
2	2
3	3
4	4

Система оценивания

**20. Задача 20\***




Установите соответствия между монархами и законодательными актами из списка ниже:

- 1- Табель о рангах
- 2- Указ об отмене пыток
- 3- Указ об уничтожении внутренних таможенных и мелочных сборов
- 4- Манифест о вольности дворянства
- 5- Устав благочиния







Возможные ответы

1	1
2	2
3	3
4	4
5	5

Система оценивания

---

## 21. Задача 21

Установите соответствия между знаменитыми сражениями и войнами

Кунерсдорфское сражение	<input type="text"/>
Битва под Лесной	<input type="text"/>
Чесменский бой	<input type="text"/>
Фокшанское сражение	<input type="text"/>

## Возможные ответы


1	Северная война
2	Русско-турецкая война 1737-1739 годов
3	Русско-турецкая война 1768-1774
4	Семилетняя война
5	Прутский поход

## Система оценивания


---

**22. Задача 22\***


Установите соответствия между авторами и их произведениями:



 <p>2</p>	
--	--



3



## Возможные ответы


1	Письма русского путешественника
2	История Российская
3	Недоросль
4	Фелица
5	Одна на взятие Хотина


## Система оценивания





## 23. Задача 23\*

Установите соответствия между архитекторами и памятниками:









Возможные ответы

1	М.Ф. Казаков
2	Д. Трезини
3	В.И. Баженов
4	Ж. Леблон
5	Ф. Растрелли

Система оценивания

## 24. Задача 24

Установите соответствия между фрагментами из источников и государственными органами управления:

1	«имеет вышнее надзирание и правление над окладными и неокладными приходами Его Царского Величества»	<input type="text"/>
2	«Российское государство пред многими иными землями преизобилует и потребными металлами, и минералами благословенно есть, которые до нынешнего времени без всякого прилежания исканы... Того ради мы... особливоу ... коллегиям всемилостиво учредить изволили»	<input type="text"/>
3	«Понеже Его Императорское Величество милостивейше соизволил к производству и умножению мануфактур и фабрик особливо ... коллегиям учредить».	<input type="text"/>
4	«Уставляем Духовную Коллегию... которое ... имеет всякия Духовныя дела во Всероссийской Церкви унравлять».	<input type="text"/>

Возможные ответы

1	Синод
2	Камер-коллегия
3	Шате-коллегия
4	Верх-коллегия
5	Мануфактур-коллегия

Система оценивания

## 25. Задача 25\*

Заполните пропуск в приведенном ниже отрывке из исторического источника:

Вселюбезнейшей і паче живота телесного дражайшей моей матушьке, гасударыни царице і великой княгине  
, сынишъка твой, в работе пребывающей, Петрушъка благословения прошу, а о твоемъ здравіи слышетъ желаю. А у насъ молитвами твоими здорово все; а озеро все вскрылось сего 20-го числа, і суды все кромѣ большого корабля в одѣлкъ, тол(ко) за канатами станеть, і о томъ милости прошу, чтобъ тѣ канат(ы) по семисотъ сажень изъ Пушкарского приказу не мешкою присланы были; а за ними дѣло станеть, і житье наше продолжитца. По семъ паки благословения прошу.