

1. Задача 1

Кто из названных ниже князей приходился тестем императору Генриху IV:

1	<input type="radio"/>	Святослав Игоревич
2	<input type="radio"/>	Олег Святославич
3	<input type="radio"/>	Ярослав Мудрый
4	<input checked="" type="radio"/>	Всеволод Ярославич

2. Задача 2

Кто из митрополитов участвовал в Ферраро-Флорентийском соборе:

1	<input type="radio"/>	Алексий
2	<input checked="" type="radio"/>	Исидор
3	<input type="radio"/>	Киприан
4	<input type="radio"/>	Максим

3. Задача 3

С деятельностью какого исторического лица связано подписание Андрусовского перемирия:

1	<input type="radio"/>	кн. В.В. Голицыным
2	<input type="radio"/>	кн. Н.И. Одоевский
3	<input checked="" type="radio"/>	А.Ф. Ордин-Нащокин
4	<input type="radio"/>	кн. Ф.Ю. Рамодановский

4. Задача 4

Русские войска под командованием К.К. Врангеля заняли Баязет:

1	<input type="radio"/>	18 ноября 1853 г.
2	<input checked="" type="radio"/>	19 июля 1854 г.
3	<input type="radio"/>	28 июня 1855 г.
4	<input type="radio"/>	24 октября 1855 г.

5. Задача 5

Какой законодательный акт был издан в годы правления изображенного на картине государя:

Межрегиональная олимпиада школьников «Высшая проба» 2018



1	<input type="radio"/>	Жалованная грамота дворянству
2	<input type="radio"/>	Манифест о поединках
3	<input type="radio"/>	Указ о единонаследии
4	<input checked="" type="radio"/>	Указ о запрещении пыток при расследовании уголовных преступлений

6. Задача 6

В каком году в Москве прошел первый Всесоюзный съезд советских художников:

1	<input type="radio"/>	1945 г.
2	<input type="radio"/>	1956 г.
3	<input checked="" type="radio"/>	1957 г.
4	<input type="radio"/>	1964 г.

7. Задача 7

Первый полет человека в космос состоялся в период руководства:

1	<input type="radio"/>	И.В. Сталина
2	<input checked="" type="radio"/>	Н.С. Хрущева
3	<input type="radio"/>	Л.И. Брежнева
4	<input type="radio"/>	М.С. Горбачева

8. Задача 8

Кто из перечисленных князей окончил жизнь во Владимиро-Суздальской земле?

1	<input type="checkbox"/>	Владимир Мономах
2	<input type="checkbox"/>	Мстислав Великий
3	<input type="checkbox"/>	Юрий Долгорукий
4	<input checked="" type="checkbox"/>	Андрей Боголюбский
5	<input checked="" type="checkbox"/>	Всеволод Большое Гнездо

9. Задача 9

Какие события связаны с деятельностью изображенного на портрете человека?



1	<input type="checkbox"/>	Учреждение патриаршества
2	<input type="checkbox"/>	Отмена местничества
3	<input checked="" type="checkbox"/>	Подписание Андрусовского перемирия
4	<input type="checkbox"/>	Чигиринский походы
5	<input checked="" type="checkbox"/>	Новоторговый устав

10. Задача 10*

Какие из нижеперечисленных журналов выходили в России в XVIII веке:

Межрегиональная олимпиада школьников «Высшая проба» 2018

1	<input checked="" type="checkbox"/>	Трутень
2	<input checked="" type="checkbox"/>	Всякая всячина
3	<input type="checkbox"/>	Вестник Европы
4	<input checked="" type="checkbox"/>	Живописец
5	<input checked="" type="checkbox"/>	Ни то ни сё


11. Задача 11

Кто из государственных деятелей принимал участие в управлении Российской империей при императрице Елизавете Петровне?


1	<input type="checkbox"/>	Андрей Иванович Остерман
2	<input checked="" type="checkbox"/>	Алексей Петрович Бестужев-Рюмин
3	<input checked="" type="checkbox"/>	Михаил Илларионович Воронцов
4	<input type="checkbox"/>	Александр Данилович Меншиков
5	<input type="checkbox"/>	Павел Иванович Ягужинский

12. Задача 12*

Кто из изображенных на портретах полководцев НЕ принимал участие в Отечественной войне 1812 г.?







1	<input type="checkbox"/>	1
2	<input checked="" type="checkbox"/>	2
3	<input checked="" type="checkbox"/>	3
4	<input type="checkbox"/>	4
5	<input type="checkbox"/>	5

13. Задача 13

С деятельностью партии меньшевиков НЕ связаны:

1	<input checked="" type="checkbox"/>	Л.Д. Троцкий
2	<input checked="" type="checkbox"/>	В.И. Ленин
3	<input type="checkbox"/>	П.Б. Аксельрод
4	<input type="checkbox"/>	Ф.И. Дан
5	<input type="checkbox"/>	Л. Мартов

14. Задача 14

Пакт о ненападении между СССР и Германией подписали:

1	<input type="checkbox"/>	А. Гитлер
2	<input checked="" type="checkbox"/>	И. Риббентроп
3	<input type="checkbox"/>	И.В. Сталин
4	<input checked="" type="checkbox"/>	В.М. Молотов
5	<input type="checkbox"/>	К.Е. Ворошилов

15. Задача 15

Расположите события в хронологическом порядке:

Битва на Куликовом поле	<input type="text"/>
Поход Тохтамыша на Москву	<input type="text"/>
Смерть Дмитрия Донского	<input type="text"/>
Смерть хана Джанибека	<input type="text"/>

Возможные ответы

1	1
2	2
3	3
4	4

16. Задача 16

Расположите события царствования Ивана III в хронологическом порядке:

Битва на р. Шелони	<input type="text"/>
--------------------	----------------------


Составление судебника	<input type="text"/>
Битва при Ведроши	<input type="text"/>
Русско-ливонская война	<input type="text"/>


Возможные ответы

1	1
2	2
3	3
4	4

17. Задача 17*

Расположите московских государей в хронологическом порядке (по датам их правления):







Возможные ответы

1	1
2	2
3	3
4	4

18. Задача 18

Расположите государственные органы в порядке их создания:

Главный магистрат	<input type="text"/>
Конференция при Высочайшем дворе	<input type="text"/>
Сенат	<input type="text"/>
Сысканой приказ	<input type="text"/>

Возможные ответы

1	1
2	2
3	3

4 4

19. Задача 19

Расположите литературные произведения по дате первой публикации (в СССР или за рубежом):

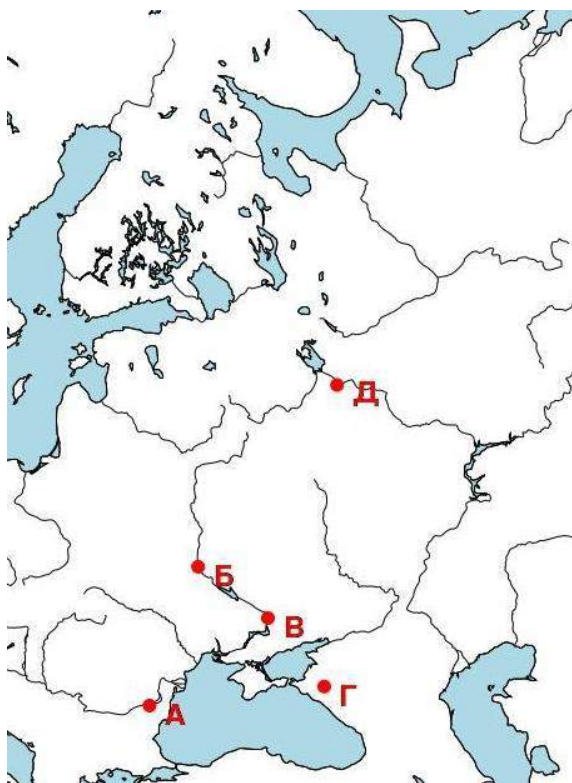
Доктор Живаго	<input type="text"/>
Мать	<input type="text"/>
Тихий Дон	<input type="text"/>
Архипелаг ГУЛАГ	<input type="text"/>

Возможные ответы

1	1
2	2
3	3
4	4

20. Задача 20*

Укажите (приблизительные) места, где произошли эти события в соответствии с картой.



сражение при Доростоле	<input type="text"/>
закладка Десятинной церкви	<input type="text"/>
начало восстания волхвов в 1071 г.	<input type="text"/>
схватка Мстислава с Редедой	<input type="text"/>

Возможные ответы

1	А
2	В
3	В
4	Г
5	Д

21. Задача 21

Соотнесите дату и событие:

взятие русскими войсками Полоцка	<input type="text"/>
бегство А.М. Курбского в Литву	<input type="text"/>
поражение русских войск на р. Уле	<input type="text"/>
вторжение войск Крымского хана в Рязанскую землю.	<input type="text"/>

Возможные ответы

1	февраль 1563 г.
2	январь 1564 г.
3	апрель 1564 г.
4	июнь 1564 г.
5	октябрь 1564 г.

22. Задача 22

Соотнесите событие и исторического деятеля, который принял в нем активное участие:

Переяславская рада	<input type="text"/>
составление Соборного Уложения	<input type="text"/>
Крымские походы	<input type="text"/>

открытие Славяно-греко-латинской академии

Возможные ответы

1	князь Василий Голицын
2	Богдан Хмельницкий
3	князь Никита Одоевский
4	Афанасий Ордин-Нащокин
5	братья Иоанникий и Софроний Лихуды

23. Задача 23

Соотнесите литературное произведение и автора:

«Симфония на Псалтырь»	
«Тилемахида»	
«На взятие Хотина»	
«Гамлет»	

Возможные ответы

1	М.В. Ломоносов
2	А.П. Сумароков
3	Ф. Прокопович
4	В.К. Тредиаковский
5	А.Д. Кантемир

24. Задача 24

Сопоставьте историческое событие и имя политического лидера:

Ввод советских войск в Афганистан	
Карибский кризис	
Инцидент с южнокорейским самолетом «Боинг»	
Падение Берлинской стены	

Возможные ответы

1	М.С. Горбачев
---	---------------

2	Л.И. Брежнев
3	Н.С. Хрущев
4	Б.Н. Ельцин
5	Ю.В. Андропов

25. Задача 25

Запишите ответ на вопрос, в виде слова или сочетания слов в именительном падеже

Кто автор выступления, отрывок из которого приводится ниже?

Когда оно было произнесено?

Где оно было произнесено?

«Пробыв около 10 лет у дела земельного устройства, я пришел к глубокому убеждению, что в деле этом нужен упорный труд, нужна продолжительная черная работа. Разрешить этого вопроса нельзя, его надо разрешать. В западных государствах на это потребовались десятилетия. Мы предлагаем вам скромный, но верный путь. Противникам государственности хотелось бы избрать путь радикализма, путь освобождения от исторического прошлого России, освобождения от культурных традиций. Им нужны великие потрясения, нам нужна Великая Россия!»