

1. Задача 1

Первым митрополитом славянином в Киеве был:

1	<input type="radio"/>	Алексей
2	<input type="radio"/>	Петр
3	<input checked="" type="radio"/>	Иларион
4	<input type="radio"/>	Зосима

2. Задача 2

Восточнославянское племя дреговичи заселяло территорию:

1	<input type="radio"/>	на Западной Двине
2	<input checked="" type="radio"/>	между Припятью и Двиной
3	<input type="radio"/>	на Днестре
4	<input type="radio"/>	на реке Сож

3. Задача 3

В 1194-1202 гг. в Киеве княжил:

1	<input checked="" type="radio"/>	Рюрик Ростиславич
2	<input type="radio"/>	Роман Мстиславич
3	<input type="radio"/>	Святослав Игоревич
4	<input type="radio"/>	Даниил Романович

4. Задача 4

В состав Избранной рады входил:

5. Задача 5*

В каком году произошло изображенное на картине событие?



1	<input type="radio"/>	1613 г.
2	<input checked="" type="radio"/>	1648 г.
3	<input type="radio"/>	1654 г.
4	<input type="radio"/>	1698 г.

6. Задача 6

Кто является автором «Сказания о Магмете-салтане»?

1	<input type="radio"/>	Авраамий Палицын
2	<input type="radio"/>	Симеон Полоцкий
3	<input type="radio"/>	Иван Тимофеев
4	<input checked="" type="radio"/>	Иван Пересветов

7. Задача 7*

Первый российский университет был создан при:

1	<input type="radio"/>	Петре I
2	<input type="radio"/>	Анне Иоанновне
3	<input checked="" type="radio"/>	Елизавете Петровне
4	<input type="radio"/>	Екатерине II

8. Задача 8

В соответствии с каким законодательным актом территория Российской империи делилась на 50 губерний:

1	<input type="radio"/>	Жалованная грамота городам
2	<input checked="" type="radio"/>	Учреждения для управления губерний
3	<input type="radio"/>	Жалованная грамота дворянству
4	<input type="radio"/>	Межевая инструкция

9. Задача 9

Деятельность «Вольной русской типографии» связана с:

1	<input type="radio"/>	А.И. Желябовым
2	<input checked="" type="radio"/>	Н.П. Огаревым
3	<input type="radio"/>	Н.А. Ишутиным
4	<input type="radio"/>	М.Н. Муравьевым

10. Задача 10*

Какой законодательный акт был издан в годы правления изображенного на портрете государя:



1	<input type="radio"/>	Циркуляр о «кухаркиных детях»
2	<input type="radio"/>	Манифест «О незыблемости самодержавия»
3	<input checked="" type="radio"/>	Указ об «обязанных крестьянах»
4	<input type="radio"/>	Указ «о вольных хлебопашцах»

11. Задача 11

В каком году древнерусские князья НЕ совершали походы на Византию:

1	<input type="checkbox"/>	907
2	<input checked="" type="checkbox"/>	912
3	<input type="checkbox"/>	941
4	<input type="checkbox"/>	944
5	<input checked="" type="checkbox"/>	964

12. Задача 12

Какие события НЕ связаны с Андреем Боголюбским:

1	<input type="checkbox"/>	Разгром Киева
2	<input checked="" type="checkbox"/>	Строительство Десятинной церкви
3	<input type="checkbox"/>	Княжение во Владимиро-Суздальской земле
4	<input type="checkbox"/>	Строительство церкви Покрова Богородицы на р. Нерли
5	<input checked="" type="checkbox"/>	Княжение в Новгороде

13. Задача 13

Какие события относятся к царствованию Василия III:

1	<input checked="" type="checkbox"/>	Арест Максима Грека
2	<input checked="" type="checkbox"/>	Строительство церкви Вознесения в с. Коломенском
3	<input type="checkbox"/>	Строительство Успенского собора Московского Кремля
4	<input checked="" type="checkbox"/>	Взятие русскими войсками Смоленска
5	<input type="checkbox"/>	Основание Братского острога

14. Задача 14

Какие законодательные акты были изданы в годы правления Петра I?

1	<input checked="" type="checkbox"/>	Генеральный регламент
2	<input checked="" type="checkbox"/>	Морской устав
3	<input type="checkbox"/>	Манифест о поединках
4	<input checked="" type="checkbox"/>	Табель о рангах
5	<input type="checkbox"/>	Устав благочиния

15. Задача 15*

Какие события относятся ко времени правления изображенного на портрете государя?



1	<input type="checkbox"/>	Манифест о вольности дворянства
2	<input checked="" type="checkbox"/>	создание министерств
3	<input type="checkbox"/>	заключение Кючук-Кайнарджийского мира
4	<input checked="" type="checkbox"/>	указ о вольных хлебопашцах
5	<input type="checkbox"/>	строительство Михайловского замка

16. Задача 16

Расположите события в хронологическом порядке:

Разорение Галицко-Волынской земли войсками Батыя	<input type="text"/>
Взятие Киева войсками Батыя	<input type="text"/>
Ледовое побоище	<input type="text"/>
Взятие г. Юрьева рыцарями ордена Меченосцев	<input type="text"/>

Возможные ответы

1	1
2	2
3	3
4	4

17. Задача 17

Расположите в хронологическом порядке события царствования Ивана III:

Битва при Ведроши	<input type="text"/>
Составление Судебника	<input type="text"/>
Венчание Дмитрия Ивановича	<input type="text"/>
Строительство Грановитой палаты Московского Кремля	<input type="text"/>

Возможные ответы

1	1
2	2
3	3
4	4

18. Задача 18

Расположите события в хронологическом порядке

Соборное Уложение	<input type="text"/>
Выход русских первопроходцев к Тихому океану	<input type="text"/>
Поляновский мир	<input type="text"/>
Столбовской «Вечный» мир	<input type="text"/>

Возможные ответы

1	1
2	2
3	3
4	4

19. Задача 19

Расположите государственные органы в порядке их создания:




Сенат	<input type="text"/>
Конференция при Высочайшем дворе	<input type="text"/>
Синод	<input type="text"/>
Кабинет министров	<input type="text"/>

Возможные ответы

1	1
2	2
3	3
4	4

20. Задача 20*

Соотнесите произведение и автора:





Возможные ответы

1	Андрей Рублев
2	Симон Ушаков
3	Дионисий
4	Даниил Черный
5	Феофан Грек

21. Задача 21

Соотнесите событие и дату:

Установление опричнины	<input type="text"/>
Стоглавый собор	<input type="text"/>
Ям-Запольское перемирие	<input type="text"/>
Плюсское перемирие	<input type="text"/>

Возможные ответы

1	1547 г.
2	1551 г.
3	1565 г.
4	1582 г.
5	1583 г.

22. Задача 22

Установите соответствие между датой и событием Северной войны:

1700	<input type="text"/>
1702	<input type="text"/>
1704	<input type="text"/>
1709	<input type="text"/>

Возможные ответы

1	Взятие русскими войсками Дерпта
2	Битва при Гангуте
3	Осада Нарвы и разгром русских войск
4	Битва под Полтавой
5	Взятие русскими войсками крепости Нотебург (Орешек)

23. Задача 23*

Соотнесите изображенных на портретах государей и события их царствования:





Возможные ответы

1	Основание Санкт-Петербурга
2	Ссылка кн. Д.А. Меншикова
3	Первая русско-турецкая война

4	Манифест о вольности дворянства
5	Швейцарский поход русских войск под командованием А.В. Суворова

24. Задача 24

Соотнесите имя издателя и периодическое издание:

Н.М. Карамзин	<input type="text"/>
О.М. Сомов	<input type="text"/>
Н.М. Надеждин	<input type="text"/>
Н.А. Полевой	<input type="text"/>

Возможные ответы

1	Вестник Европы
2	Московский телеграф
3	Телескоп
4	Трутень
5	Литературная газета

25. Задача 25

Заполните пропуск

Владимир	1125
Юрий	1157
Андрей	1174
<input type="text"/>	1212