



**Межрегиональная олимпиада школьников
«Высшая проба»**

2015-2016 учебный год

**МАТЕРИАЛЫ ЗАДАНИЙ ОТБОРОЧНОГО И
ЗАКЛЮЧИТЕЛЬНОГО ЭТАПОВ ОЛИМПИАДЫ,
ОТВЕТЫ НА ЗАДАНИЯ ЗАКЛЮЧИТЕЛЬНОГО ЭТАПА**

ПЕРВЫЙ (ОТБОРОЧНЫЙ) ЭТАП ИСТОРИЯ

11 класс**1. Задание 1**

После крещения св. Владимир женился на сестре

1	Константина IV Багрянородного
2	Иоанна I Цимисхия
3	Василия II Болгаробойцы
4	Алексея I Комнина


2. Задание 2

Из перечисленных князей предком Ивана IV НЕ был...

1	Семион Гордый
2	Иван III
3	Александр Невский
4	Иван Калита

3. Задание 3

Правитель, при котором был построен изображенный на картинке памятник архитектуры, начал царствовать в



1	1533
2	1547
3	1613
4	1645


4. Задание 4

Главным военным ведомством Московского государства в XVI-XVII вв. являлся

1	Рейтарский приказ
2	Разрядный приказ
3	Иноземский приказ
4	Стрелецкий приказ

5. Задание 5


В какой из монастырей была заточена царевна Софья?



2



3





6. Задание 6

Екатерина II, вступив на престол, отправила в отставку придворного архитектора:

1	Ринальди
2	Растрелли
3	Кварнеги
4	Фальконе

7. Задание 7

О каком императоре написаны эти строки:

Властитель слабый и лукавый,

Плешивый щеголь, враг труда,

Нечаянно пригретый славой,

Над нами царствовал тогда...

1	Николай II
2	Александр I
3	Николай I
4	Александр III

8. Задание 8

Среди решений Тегеранской конференции были:

1	Заявлена готовность СССР к вступлению в войну с Японией после разгрома Германии
2	Решен вопрос о западных границах Польши
3	Согласование основных принципов послевоенного устройства Германии
4	Согласование планов о безоговорочной капитуляции Германии

9. Задание 9

В создании и редактировании Русской Правды принимали участие

1	Владимир Святославич
2	Ярослав Мудрый
3	Изяслав Ярославич
4	Владимир Мономах
5	Юрий Долгорукий

10. Задание 10

Юрий Долгорукий...

1	был женат на половчанке
2	умер во Владимире-на-Клязьме
3	основал Москву как свою резиденцию
4	приходился сыном Владимиру Мономаху

5	пользовался почетом и уважением в Киеве
---	---

11. Задание 11

Кто из перечисленных ниже людей жил во время написания «Хождения за три моря»

1	Нил Сорский
2	митрополит Петр
3	Федор Курицын
4	Иван III
5	Сергий Радонежский

12. Задание 12

К территориальным единицам XV в. относятся

1	уезд
2	воеводство
3	приставство
4	волость
5	наместничество

13. Задание 13

Иконописью занимались

1	Андрей Рублев
2	Максим Грек
3	Дионисий
4	Юрий Крижанич
5	Симон Ушаков

14. Задание 14

К I классу Табели о рангах относились гражданские чины:

1	Действительный статский советник
2	Вице-канцлер

3	Канцлер
4	Коллежский советник
5	Действительный тайный советник 1-го класса

15. Задание 15

Назовите видных деятелей Губернских дворянских комитетов по улучшению быта помещичьих крестьян:

1	Ю.Ф.Самарин
2	Ф. Н. Глинка
3	А.М.Унковский
4	М.Е. Салтыков-Щедрин
5	И.И. Лажечников

16. Задание 16

Итогами коллективизации стали:

1	Ликвидация кулачества
2	Освоение новых земель на Дальнем Востоке
3	Отчуждение крестьян от земли
4	Создание продотрядов
5	Увеличение поголовья скота

17. Задание 17

Существовало несколько Конституций СССР, которые были приняты в:

1	1936 году
2	1937 году
3	1924 году
4	1977 году
5	1922 году

18. Задание 18

Расположите славянские племена с севера на юг

вятичи	<input type="text"/>
древляне	<input type="text"/>
словене	<input type="text"/>
уличи	<input type="text"/>

19. Задание 19

Расположите князей по длительности их правления (от правившего меньше к правившему дольше)

Иван Калита	<input type="text"/>
Василий III	<input type="text"/>
Юрий Данилович	<input type="text"/>
Иван III	<input type="text"/>

20. Задание 20

Расположите в хронологической последовательности изображенные на картинах события





21. Задание 21

Расположите изображенных на портретах правителей в верном хронологическом порядке





22. Задание 22

Расположите литературно-публицистические произведения по мере их создания:

«Записка о Древней и Новой России»	<input type="text"/>
«Путешествие из Петербурга в Москву»	<input type="text"/>
«Кто виноват?»	<input type="text"/>
«Что делать?»	<input type="text"/>

23. Задание 23

Расположите портреты русских поэтов по старшинству (по году рождения)





24. Задание 24

Расположите события в хронологической последовательности:

Бои у озера Хасан	<input type="text"/>
Советско-французский договор о взаимной помощи	<input type="text"/>
Вступление СССР в Лигу наций	<input type="text"/>
Пакт Молотова-Риббентропа	<input type="text"/>

25. Задание 25

Соотнесите событие и дату

битва на Сити	<input type="text"/>
изгнание Всеволода Мстиславича из Новгорода	<input type="text"/>
осада Новгорода суздальцами	<input type="text"/>
смерть Юрия Долгорукого	<input type="text"/>

26. Задание 26

Соотнесите точку на карте и город



1	<input type="text"/>
2	<input type="text"/>
3	<input type="text"/>
4	<input type="text"/>

Возможные ответы

1	Чернигов
2	Курск
3	Киев
4	Серпухов
5	Путивль

27. Задание 27

Установите соответствия между полководцами и военными событиями:

Василий Голицын	<input type="text"/>
-----------------	----------------------

Патрик Гордон	<input type="text"/>
Михаил Воротынский	<input type="text"/>
Михаил Скопин-Шуйский	<input type="text"/>

Возможные ответы

1	Битва у деревни Молоди
2	Азовские походы
3	Вступление в Москву в марте 1610 г.
4	Крымские походы
5	Подавление восстания С. Разина

28. Задание 28

Соотнесите событие и дату

Битва при Кунерсдорфе	<input type="text"/>
Штурм Измаила	<input type="text"/>
Сражение при Кагуле	<input type="text"/>
Сражение под Ставучанами и взятие Хотина	<input type="text"/>

Возможные ответы

1	1709
2	1759
3	1739
4	1770
5	1790

29. Задание 29

Установите соответствие между произведениями и их авторами:

«Записка о древней и новой России»	<input type="text"/>
«Философические письма»	<input type="text"/>
«О старом и новом»	<input type="text"/>
«Кто виноват?»	<input type="text"/>

Возможные ответы

1	В.Г. Белинский
2	А.С. Хомяков
3	А.И. Герцен
4	П.Я. Чаадаев
5	Н.М. Карамзин

30. Задание 30

Установите соотношения между зданиями, изображенными на фотографиях и их названиями







Возможные ответы

1	Верхние торговые ряды в Москве
2	Исторический музей в Москве
3	Храм Спаса-на-Крови в Санкт-Петербурге
4	Большой театр
5	Храм Христа Спасителя

31. Задание 31

Соотнесите авторов и их произведения:

В. Ленин	<input type="text"/>
----------	----------------------

А. Коллонтай	<input type="text"/>
И. Сталин	<input type="text"/>
Л. Троцкий	<input type="text"/>

Возможные ответы

1	«Проблемы теории и практики социализма»
2	«Марксизм и национальный вопрос»
3	«Что делать?»
4	«Профсоюзы и милитаризация труда»
5	«Положение женщины в эволюции хозяйства»

32. Задание 32

Соотнесите политических деятелей начала XX века и те органы власти, которые они возглавляли:

А. Керенский	<input type="text"/>
В. Чернов	<input type="text"/>
В. Ленин	<input type="text"/>
М.В. Родзянко	<input type="text"/>

Возможные ответы

1	Всероссийское Учредительное собрание
2	Первый Всероссийский съезд Советов рабочих и солдатских депутатов
3	Временное правительство России
4	Временный комитет Государственной думы
5	Совет народных комиссаров

33. Задание 33

В каком году произошло событие, изображенное на картине:



34. Задание 34

Прочтите отрывок из исторического источника и заполните пропуск:

Для заведывания делами, относящимися к местным хозяйственным пользам и нуждам каждой губернии и каждого уезда, образуются губернские и уездные учреждения. Они не вмешиваются в дела, принадлежащие к кругу действий, правительственных, сословных и общественных властей и учреждений.

35. Задание 35

Кто из политических и военных деятелей XX века является автором книги «Очерки русской смуты»?